

Vārds .....

Uzvārds .....

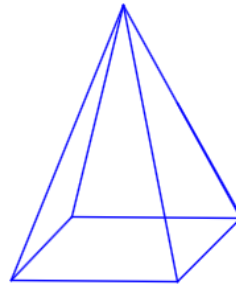
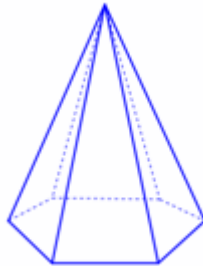
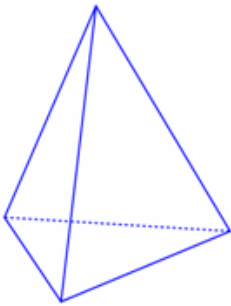
## Piramīdas elementi

Skolēna darba lapa

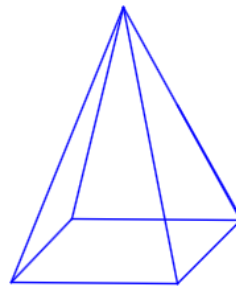
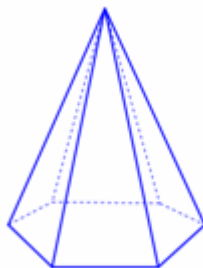
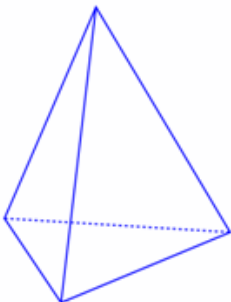
1. Iekrāso katrā piramīdā vienu sānu skaldni!

Aizpildi tabulu !

Piramīda	Sānu skaldņu skaits



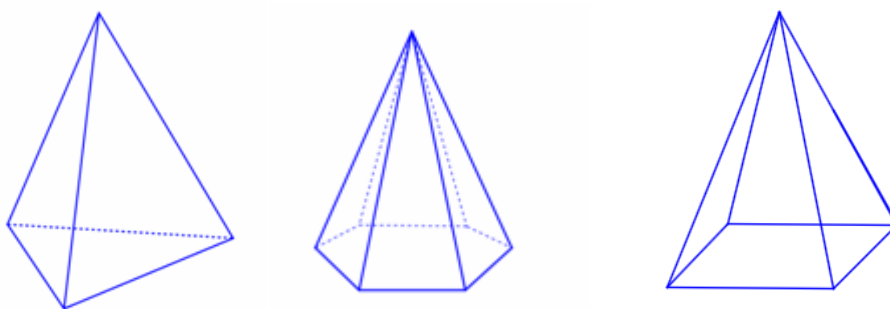
2. Iekrāso katrā piramīdā apotēmu!



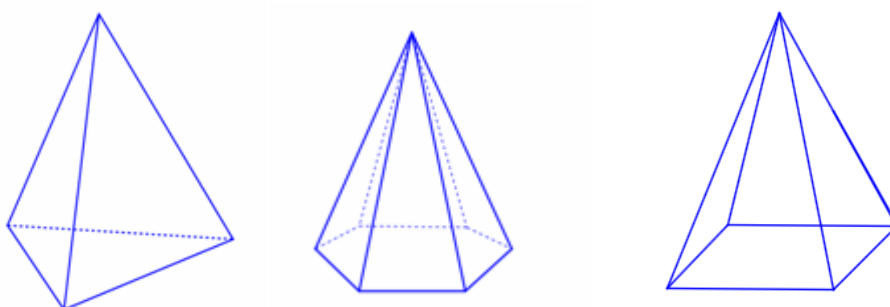
3. Iekrāso katrā piramīdā vienu šķautni!

Aizpildi tabulu !

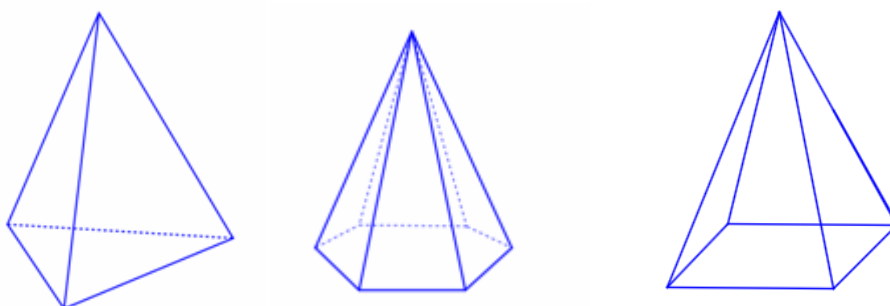
Piramīda	Šķautņu skaits



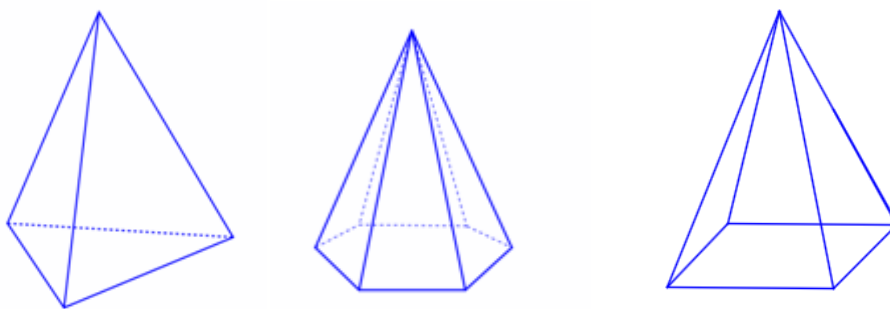
4. Iezīmē katrā piramīdā augstumu!



5. Iezīmē katrā piramīdā vienu leņķi starp sānu šķautni un pamatu!



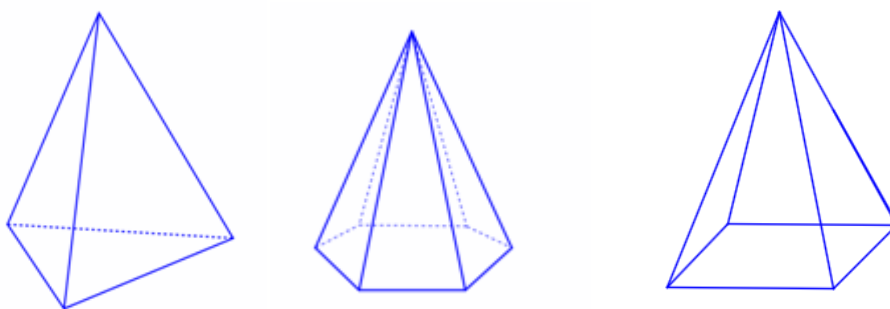
6. Iezīmē katrā piramīdā vienu divplakņu kakta leņķi!



7. Iekrāso katrā piramīdā pamatu!

Aizpildi tabulu!

Piramīda	Pamata figūra



8. Iezīmē katrā piramīdā diagonāļšķēlumu!

